

Tugas Matematika Kelas 2 (PECAHAN)



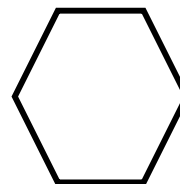
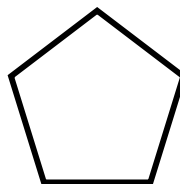


Kamis, 24 Maret 2022

Petunjuk mengerjakan:

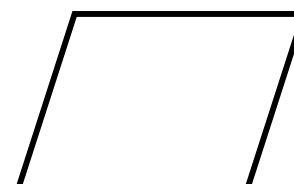




1. Siapkan alat tulis, penggaris dan buku berhitung
2. Bacalah soal di bawah ini dengan seksama
3. Kerjakan dengan menyalin soal terlebih dahulu atau mencetak lembar soal ini
4. Kerjakan di **buku berhitung** atau jika di cetak lembar ditempelkan di **buku berhitung**

Soal

1. Perhatikan bangun datar di bawah ini! Bagilah bangun tersebut agar menjadi bagian yang menunjukkan pecahan (setengah) $\frac{1}{2}$!



2. Perhatikan bangun datar di bawah ini! Bagilah bangun tersebut agar menjadi bagian yang menunjukkan pecahan (sepertiga) $\frac{1}{3}$!



3. Perhatikan bangun datar di bawah ini! Bagilah bangun tersebut agar menjadi bagian yang menunjukkan pecahan (seperempat) $\frac{1}{4}$!

